

ДОМАШНЕЕ ЗАДАНИЕ №1

Для выполнения домашнего задания Вам необходимо, пользуясь табл. 1, заполнить первую строку табл. 2, затем выписать соответствующие Вашему номеру варианта данные из табл. 2. Например, Вы учитесь в группе №5, Ваш номер в списке – 14. Тогда по табл.1 имеем:

5	<i>B</i>	<i>D</i>	<i>F</i>	<i>K</i>	<i>M</i>	<i>A</i>	<i>C</i>	<i>G</i>
---	----------	----------	----------	----------	----------	----------	----------	----------

Вписываем эти буквы в первую строку табл. 2 и выбираем строку, соответствующую четырнадцатому варианту:

Номер по п/п	Коэффициенты							
	<i>B</i>	<i>D</i>	<i>F</i>	<i>K</i>	<i>M</i>	<i>A</i>	<i>C</i>	<i>G</i>
14	5	1	3	-6	6	2	9	3

Таблица 1

Коэффициенты для разных групп

Группа	Коэффициенты							
1	<i>A</i>	<i>B</i>	<i>C</i>	<i>D</i>	<i>K</i>	<i>M</i>	<i>F</i>	<i>G</i>
2	<i>C</i>	<i>D</i>	<i>K</i>	<i>F</i>	<i>M</i>	<i>A</i>	<i>B</i>	<i>G</i>
3	<i>M</i>	<i>K</i>	<i>D</i>	<i>C</i>	<i>B</i>	<i>F</i>	<i>A</i>	<i>G</i>
4	<i>B</i>	<i>A</i>	<i>C</i>	<i>K</i>	<i>D</i>	<i>F</i>	<i>M</i>	<i>G</i>
5	<i>C</i>	<i>D</i>	<i>A</i>	<i>M</i>	<i>F</i>	<i>K</i>	<i>B</i>	<i>G</i>
6	<i>D</i>	<i>K</i>	<i>B</i>	<i>A</i>	<i>M</i>	<i>C</i>	<i>F</i>	<i>G</i>
7	<i>K</i>	<i>M</i>	<i>C</i>	<i>F</i>	<i>A</i>	<i>B</i>	<i>D</i>	<i>G</i>
8	<i>M</i>	<i>F</i>	<i>D</i>	<i>A</i>	<i>C</i>	<i>K</i>	<i>B</i>	<i>G</i>
9	<i>F</i>	<i>M</i>	<i>D</i>	<i>K</i>	<i>C</i>	<i>B</i>	<i>A</i>	<i>G</i>
10	<i>A</i>	<i>D</i>	<i>C</i>	<i>M</i>	<i>F</i>	<i>K</i>	<i>B</i>	<i>G</i>
11	<i>B</i>	<i>D</i>	<i>F</i>	<i>K</i>	<i>M</i>	<i>A</i>	<i>C</i>	<i>G</i>
12	<i>C</i>	<i>D</i>	<i>K</i>	<i>M</i>	<i>F</i>	<i>A</i>	<i>B</i>	<i>G</i>
13	<i>D</i>	<i>K</i>	<i>M</i>	<i>F</i>	<i>A</i>	<i>B</i>	<i>C</i>	<i>G</i>
14	<i>K</i>	<i>F</i>	<i>M</i>	<i>A</i>	<i>B</i>	<i>C</i>	<i>D</i>	<i>G</i>
15	<i>M</i>	<i>A</i>	<i>B</i>	<i>C</i>	<i>D</i>	<i>K</i>	<i>F</i>	<i>G</i>
16	<i>F</i>	<i>M</i>	<i>K</i>	<i>D</i>	<i>C</i>	<i>B</i>	<i>A</i>	<i>G</i>
17	<i>D</i>	<i>K</i>	<i>M</i>	<i>F</i>	<i>A</i>	<i>B</i>	<i>C</i>	<i>G</i>

Таблица 2

Данные для выполнения домашнего задания

Номер по п/п	Коэффициенты							G
1	-2	1	4	5	3	-6	7	2
2	3	-2	1	-5	7	2	4	3
3	5	-3	4	1	2	-8	6	1
4	4	3	-2	1	6	3	5	2
5	8	-9	4	2	1	6	-2	1
6	3	4	-5	1	-3	5	7	2
7	2	4	5	7	8	-9	1	3
8	5	1	3	-2	6	-8	-6	1
9	1	4	-3	2	9	-6	7	2
10	5	7	3	-6	1	-2	4	1
11	1	3	-5	2	6	4	9	2
12	9	-4	-1	-8	-3	6	5	1
13	2	-3	9	4	1	7	3	2
14	5	1	3	-6	6	2	9	3
15	-4	-1	-8	9	-5	2	7	1
16	2	-3	3	1	-6	5	-1	2
17	-5	-4	2	4	-1	6	7	1
18	3	1	5	6	-4	2	9	2
19	2	4	-3	-5	-6	-5	8	1
20	1	-2	-7	8	3	5	-4	2
21	-8	-3	-1	6	4	1	-5	3
22	-2	-4	5	3	-6	7	6	1
23	1	9	-6	4	-2	-3	-1	2
24	3	-5	-1	3	6	-4	2	1
25	-1	-3	-6	4	1	-5	-4	2
26	9	-4	3	-5	2	1	6	2
27	7	6	-1	2	-3	8	-5	1
28	4	-1	5	-6	-4	7	3	3
29	-1	9	-3	-5	6	-8	2	1
30	2	1	9	3	-4	-1	6	2

Задача 1.

Дано: $|\bar{a}| = |F|$, $|\bar{b}| = |M|$, $|\bar{c}| = |A|$, $\left(\overset{\wedge}{ab}\right) = \frac{\pi}{3}$; $\left(\overset{\wedge}{bc}\right) = \frac{\pi}{4}$; $\left(\overset{\wedge}{ac}\right) = \frac{2\pi}{3}$.

Найти: 1) $|D\bar{a} + C\bar{b}|$;

2) $\text{пр}_{M\bar{c} + K\bar{a}}(D\bar{a} + C\bar{b})$;

3) Длину диагоналей параллелограмма, построенного по векторам $C\bar{a} + B\bar{b}$ и $K\bar{b} + M\bar{a}$;

4) Площадь этого параллелограмма.

Задача 2. Дано: $\bar{a}(A, B, C)$; $\bar{b}(F, M, K)$; $\bar{c}(B, D, K)$.

Найти: 1) координаты вектора $\bar{d} = F\bar{a} + M\bar{b}$;

2) длину вектора \bar{d} , направляющие косинусы вектора \bar{d} , координаты орта \bar{d}_0 вектора \bar{d} , $\text{пр}_i \bar{d}$, $\text{пр}_j \bar{d}$, $\text{пр}_k \bar{d}$;

3) $(A\bar{a} + B\bar{c}, K\bar{b} + M\bar{d})$;

4) $\cos(A\bar{a} + B\bar{c}, K\bar{b} + M\bar{d})$;

5) $[A\bar{a} + B\bar{c}, K\bar{b} + M\bar{d}]$;

6) $(\bar{a}, \bar{b}, \bar{c})$;

7) Образуют ли вектора $\bar{a}, \bar{b}, \bar{c}$ базис в \mathbb{R}^3 ;

8) $\text{пр}_a \bar{d}$.

Задача 3. Дано: точки $Q(A, B)$, $L(C, D)$, $P(C, F)$.

Найти: 1) проверить, не лежат ли точки на одной прямой;

2) уравнение прямой QL ;

3) уравнение медианы, проведенной из вершины Q в треугольнике QLP ;

4) уравнение высоты, проведенной из вершины Q ;

5) координаты точки пересечения медиан в $\triangle QPL$;

6) угол между медианой и высотой, проведенными из вершины Q ;

7) расстояние от точки P до прямой QL .

- Задача 4.** Дано: $Q(A, B, C)$, $L(A, F, C)$, $P(M, F, K)$, $N(A, D, F)$.
Найти:
- 1) проверить, что точки Q, L, P не лежат на одной прямой;
 - 2) проверить, что точки Q, L, P, N не лежат в одной плоскости;
 - 3) написать уравнение плоскости, проходящей через точки Q, L, P ;
 - 4) написать уравнение плоскости, проходящей через точку N , параллельно плоскости (QLP) ;
 - 5) написать уравнение плоскости, проходящей через точку P параллельно векторам \overline{QP} и \overline{QN} ;
 - 6) написать уравнение плоскости, проходящей через точки N и Q , перпендикулярно плоскости (QLP) ;
 - 7) написать уравнение плоскости, проходящей через точки L и Q , параллельно вектору \overline{NP} ;
 - 8) написать уравнение плоскости, проходящей через точку N , параллельно координатной плоскости XOZ ;
 - 9) написать общее, каноническое и параметрическое уравнение прямой QP ;
 - 10) написать уравнение прямой, проходящей через точку Q параллельно оси OZ ;
 - 11) написать уравнение медианы QM в $\triangle QPL$;
 - 12) написать уравнение высоты QH в $\triangle QPL$;
 - 13) написать уравнение прямой, проходящей через точку N параллельно прямой QP ;
 - 14) написать уравнение высоты NH тетраэдра $QLPH$;
 - 15) написать уравнение прямой, перпендикулярной прямым QP и QN и проходящей через точку L ;
 - 16) найти угол между прямой QP и прямой LN ;
 - 17) найти угол между прямой PN и плоскостью (QPL) ;
 - 18) найти величину двугранного угла между плоскостями (QPL) и (NPQ) ;
 - 19) найти площадь $\triangle QPL$;
 - 20) найти объем тетраэдра $QLNP$;
 - 21) найти расстояние от точки N до прямой QP ;
 - 22) найти расстояние от точки N до плоскости (QLP) ;

- 23) найти расстояние между прямыми QP и LN ;
- 24) найти координаты точки N_1 , симметричной точки N относительно прямой QP ;
- 25) найти координаты точки N_2 , симметричной точки N относительно плоскости QLP .
- .

Пример выполнения домашнего задания №1

Номер по п/п	Коэффициенты							
	A	B	C	D	K	M	F	G
Произвольный номер	-3	1	4	9	-5	3	2	2

Задача 1.

Дано: $|\vec{a}| = 2$, $|\vec{b}| = 5$, $|\vec{c}| = 3$,

$$\left(\overset{\wedge}{\vec{a}\vec{b}}\right) = \frac{\pi}{3} \quad \left(\overset{\wedge}{\vec{b}\vec{c}}\right) = \frac{\pi}{4} \quad \left(\overset{\wedge}{\vec{a}\vec{c}}\right) = \frac{2\pi}{3}$$

Найти:

1) $|\vec{9a} + 4\vec{b}|$

2) $\text{пр}_{3\vec{c}-5\vec{a}}(\vec{9a} + 4\vec{b})$

3) Длины диагоналей параллелограмма, построенного по векторам $4\vec{a} + \vec{b}$ и $-5\vec{b} + 3\vec{a}$

4) Площадь этого параллелограмма

Решение

$$1) |\vec{a}| = \sqrt{(\vec{a}, \vec{a})} \quad (\vec{a}, \vec{b}) = |\vec{a}||\vec{b}|\cos\left(\overset{\wedge}{\vec{a}, \vec{b}}\right)$$

$$|\vec{9a} + 4\vec{b}| = \sqrt{(\vec{9a} + 4\vec{b}, \vec{9a} + 4\vec{b})} =$$

Воспользуемся свойствами скалярного произведения

$$(\vec{a}, \vec{b}) = (\vec{b}, \vec{a})$$

$$(\vec{a} + \vec{b}, \vec{c}) = (\vec{a}, \vec{c}) + (\vec{b}, \vec{c})$$

$$= \sqrt{(\vec{9a}, \vec{9a}) + (\vec{4b}, \vec{9a}) + (\vec{9a}, \vec{4b}) + (\vec{4b}, \vec{4b})} =$$

$$\sqrt{81|\bar{a}|^2 + 72(\bar{a}, \bar{b}) + 16|\bar{b}|^2} =$$

$$\sqrt{81 \cdot 2 \cdot 2 + 72 \cdot 2 \cdot 5 \cos \frac{\pi}{3} + 16 \cdot 5^2} = \sqrt{324 + 720 \cdot \frac{1}{2} + 400} =$$

$$\sqrt{324 + 360 + 400} = \sqrt{1084}$$

Ответ: $|9\bar{a} + 4\bar{b}| = \sqrt{1084}$

2)

$$\text{пр}_{3\bar{c}-5\bar{a}}(9\bar{a} + 4\bar{b})$$

Запишем формулу для нахождения проекции

$$\text{пр}_{\bar{f}} \bar{d} = |\bar{d}| \cos(\bar{f}, \bar{d}), \text{ где } \cos(\bar{f}, \bar{d}) = \frac{(\bar{f}, \bar{d})}{|\bar{f}| |\bar{d}|}$$

$$\text{пр}_{\bar{f}} \bar{d} = |\bar{d}| \frac{(\bar{f}, \bar{d})}{|\bar{f}| |\bar{d}|} = \frac{(\bar{f}, \bar{d})}{|\bar{f}|}$$

Тогда

$$\text{пр}_{3\bar{c}-5\bar{a}}(9\bar{a} + 4\bar{b}) = \frac{(9\bar{a} + 4\bar{b}, 3\bar{c} - 5\bar{a})}{|3\bar{c} - 5\bar{a}|} =$$

$$\left| \begin{array}{l} \text{Воспользуе мся свойствами} \\ \text{скалярного произведен ия} \end{array} \right| =$$

$$\frac{(9\bar{a}, 3\bar{c}) + (9\bar{a}, -5\bar{a}) + (4\bar{b}, 3\bar{c}) + (4\bar{b}, -5\bar{a})}{\sqrt{(3\bar{c} - 5\bar{a}, 3\bar{c} - 5\bar{a})}} =$$

$$\frac{27(\bar{a}, \bar{c}) - 45(\bar{a}, \bar{a}) + 12(\bar{b}, \bar{c}) - 20(\bar{b}, \bar{a})}{\sqrt{9(\bar{c}, \bar{c}) - 30(\bar{a}, \bar{c}) + 25(\bar{a}, \bar{a})}} =$$

$$\frac{27|\bar{a}||\bar{c}|\cos(\bar{a}, \bar{c}) - 45|\bar{a}|^2 + 12|\bar{b}||\bar{c}|\cos(\bar{b}, \bar{c}) - 20|\bar{b}||\bar{a}|\cos(\bar{b}, \bar{a})}{\sqrt{9|\bar{c}|^2 - 30|\bar{a}||\bar{c}|\cos(\bar{a}, \bar{c}) + 25|\bar{a}|^2}}$$

$$= \frac{27 \cdot 2 \cdot 3 \cos \frac{2\pi}{3} - 45 \cdot 4 + 12 \cdot 5 \cdot 3 \cos \frac{\pi}{4} - 20 \cdot 5 \cdot 2 \cos \frac{\pi}{3}}{\sqrt{9 \cdot 9 - 30 \cdot 2 \cdot 3 \cos \frac{2\pi}{3} + 25 \cdot 4}} =$$

$$\frac{162\left(-\frac{1}{2}\right) - 180 + 12 \cdot 15 \frac{\sqrt{2}}{2} - 200 \cdot \frac{1}{2}}{\sqrt{81 - 180\left(-\frac{1}{2}\right) + 100}} =$$

$$\frac{-81 - 180 + 90\sqrt{2} - 100}{\sqrt{181 + 90}} = \frac{90\sqrt{2} - 361}{\sqrt{271}}$$

Ответ: $\text{пр}_{3\bar{c}-5\bar{a}}(9\bar{a} + 4\bar{b}) = \frac{90\sqrt{2} - 361}{\sqrt{271}}$

3) Найти длину диагоналей параллелограмма построенного по векторам

$$4\bar{a} + \bar{b} \text{ и } -5\bar{b} + 3\bar{a}, \text{ где } |\bar{a}| = 2, |\bar{b}| = 5, \frac{\Lambda}{\bar{a}, \bar{b}} = \frac{\pi}{3}$$

Пусть $\overline{AB} = 4\bar{a} + \bar{b}$ $\overline{AD} = -5\bar{b} + 3\bar{a}$ (рис 3.1)

Тогда

$$\overline{AC} = \overline{AB} + \overline{AD} = 4\bar{a} + \bar{b} - 5\bar{b} + 3\bar{a} = 7\bar{a} - 4\bar{b}$$

$$\overline{BD} = \overline{AD} - \overline{AB} = -5\bar{b} + 3\bar{a} - 4\bar{a} - \bar{b} = -\bar{a} - 6\bar{b}$$

$$|\overline{AC}| = |7\bar{a} - 4\bar{b}| = \sqrt{(7\bar{a} - 4\bar{b}, 7\bar{a} - 4\bar{b})} =$$

$$\sqrt{49(\bar{a}, \bar{a}) - 56(\bar{a}, \bar{b}) + 16(\bar{b}, \bar{b})} =$$

$$\sqrt{49|\bar{a}|^2 - 56|\bar{a}||\bar{b}| \cos(\bar{a}, \bar{b}) + 16|\bar{b}|^2} =$$

$$\sqrt{49 \cdot 4 - 56 \cdot 2 \cdot 5 \cdot \frac{1}{2} + 16 \cdot 25} = \sqrt{196 - 280 + 400} = \sqrt{316}$$

$$|\overline{BC}| = |-\bar{a} - 6\bar{b}| = \sqrt{(-\bar{a} - 6\bar{b}, -\bar{a} - 6\bar{b})} =$$

$$\sqrt{36(\bar{b}, \bar{b}) + 12(\bar{a}, \bar{b}) + (\bar{a}, \bar{a})} =$$

$$\sqrt{36|\bar{b}|^2 + 12|\bar{a}||\bar{b}| \cos(\bar{a}, \bar{b}) + |\bar{a}|^2} = \sqrt{36 \cdot 25 + 12 \cdot 2 \cdot 5 \cdot \frac{1}{2} + 4}$$

$$= \sqrt{900 + 120 + 4} = \sqrt{1024} = 32$$

$$\text{Ответ: } |\overline{AC}| = \sqrt{316} \quad |\overline{BC}| = 32$$

4) Площадь параллелограмма ABCD

$$S_{ABCD} = |[\overline{AB}, \overline{AD}]| = |[4\bar{a} + \bar{b}, -5\bar{b} + 3\bar{a}]|$$

Площадь параллелограмма, построенного на векторах \overline{AB} и \overline{AD} , равна длине вектора векторного произведения этих векторов.

Для вычисления длины вектора $[4\bar{a} + \bar{b}, -5\bar{b} + 3\bar{a}]$ воспользуемся следующими свойствами векторного произведения:

$$1) [\bar{a}, \bar{b}] = -[\bar{b}, \bar{a}]$$

$$2) [\lambda\bar{a}, \bar{b}] = \lambda[\bar{a}, \bar{b}]$$

$$3) [\bar{a} + \bar{b}, \bar{c}] = [\bar{a}, \bar{c}] + [\bar{b}, \bar{c}]$$

$$4) [\bar{a}, \bar{a}] = 0$$

Тогда

$$\begin{aligned} |[4\bar{a} + \bar{b}, 3\bar{a} - 5\bar{b}]| &= |[4\bar{a}, 3\bar{a}] + [4\bar{a}, -5\bar{b}] + [\bar{b}, 3\bar{a}] + [\bar{b}, -5\bar{b}]| = \\ &= |12[\bar{a}, \bar{a}] - 20[\bar{a}, \bar{b}] + 3[\bar{b}, \bar{a}] - 5[\bar{b}, \bar{b}]| = |-20[\bar{a}, \bar{b}] - 3[\bar{a}, \bar{b}]| = \end{aligned}$$

$$| - 23[\bar{a}, \bar{b}] | = 23|\bar{a}||\bar{b}|\sin(\bar{a}, \bar{b}) = 23 \cdot 5 \cdot 2 \cdot \sin \frac{\pi}{3} = 230 \cdot \frac{\sqrt{3}}{2} = 115\sqrt{3}$$

Ответ $S_{ABCD} = 115\sqrt{3}$

Задача 2.

Дано: $\bar{a}(-3, 1, 4)$, $\bar{b}(2, 3, -5)$, $\bar{c}(1, 9, -5)$

Найти:

- 1) Координаты вектора $\bar{d} = 2\bar{a} + 3\bar{b}$
- 2) $|\bar{d}|$, направляющие косинусы вектора \bar{d} , координаты орта \bar{d}_0 вектора \bar{d} , $\text{пр}_i \bar{d}$, $\text{пр}_j \bar{d}$, $\text{пр}_k \bar{d}$
- 3) $(-3\bar{a} + \bar{c}, -5\bar{b} + 3\bar{d})$
- 4) $\cos(-3\bar{a} + \bar{c}, -5\bar{b} + 3\bar{d})$
- 5) $[-3\bar{a} + \bar{c}, -5\bar{b} + 3\bar{d}]$
- 6) $(\bar{a}, \bar{b}, \bar{c})$
- 7) Установить образуют ли вектора $\bar{a}, \bar{b}, \bar{c}$ базис в \mathbb{R}^3
- 8) $\text{пр}_a \bar{d}$ - проекцию вектора \bar{d} на вектор \bar{a}

Решение:

- 1) Координаты вектора $\bar{d} = 2\bar{a} + 3\bar{b}$
 $2\bar{a}(-6, 2, 8)$, $3\bar{b}(6, 9, -15)$
 $2\bar{a} + 3\bar{b} = (-6 + 6, 2 + 9, 8 - 15) = (0, 11, -7)$
 $\bar{d} = (0, 11, -7)$

Ответ: $\bar{d}(0, 11, -7)$

2) $|\bar{d}| = ?$

Если $\bar{a}(x, y, z)$, то $|\bar{a}| = \sqrt{x^2 + y^2 + z^2}$

$$\cos\alpha = \frac{x}{|\vec{a}|}, \quad \cos\beta = \frac{y}{|\vec{a}|}, \quad \cos\gamma = \frac{z}{|\vec{a}|} \quad - \text{ направляющие}$$

косинусы вектора \vec{a}

$\text{пр}_{\vec{i}}|\vec{a}| = x$, $\text{пр}_{\vec{j}}|\vec{a}| = y$, $\text{пр}_{\vec{k}}|\vec{a}| = z$ - проекции вектора \vec{a} на базисные вектора.

$$\text{Тогда } |\vec{d}| = \sqrt{0 + 11^2 + (-7)^2} = \sqrt{121 + 49} = \sqrt{170}$$

$$\vec{a}_0 - \text{ орт вектора } \vec{a}, \quad \vec{a}_0 = \frac{1}{|\vec{a}|} \vec{a}$$

$$\cos\alpha = \frac{0}{\sqrt{170}} = 0, \quad \cos\beta = \frac{11}{\sqrt{170}}, \quad \cos\gamma = -\frac{7}{\sqrt{170}}$$

$$\text{пр}_{\vec{i}}\vec{d} = 0, \quad \text{пр}_{\vec{j}}\vec{d} = 11, \quad \text{пр}_{\vec{k}}\vec{d} = -7$$

$$\vec{d}_0 = \left(0, \frac{11}{\sqrt{170}}, \frac{-7}{\sqrt{170}} \right)$$

Ответ:

$$|\vec{d}| = \sqrt{170}; \vec{d}_0 = \left(0, \frac{11}{\sqrt{170}}, \frac{-7}{\sqrt{170}} \right); \cos\alpha = 0, \cos\beta = \frac{11}{\sqrt{170}},$$

$$\cos\gamma = -\frac{7}{\sqrt{170}}; \text{пр}_{\vec{i}}\vec{d} = 0, \text{пр}_{\vec{j}}\vec{d} = 11, \text{пр}_{\vec{k}}\vec{d} = -7$$

3) $(-3\vec{a} + \vec{c}, -5\vec{b} + 3\vec{d})$ скалярное произведение

Если $p(x_1, y_1, z_1)$

$$\vec{q}(x_2, y_2, z_2), \text{ то } (\vec{p}, \vec{q}) = x_1x_2 + y_1y_2 + z_1z_2$$

Найдем координаты векторов $-3\vec{a} + \vec{c}$ и $-5\vec{b} + 3\vec{d}$

$$-3\vec{a} = (9, -3, -12)$$

$$\vec{c} = (1, 9, -5)$$

$$-3\vec{a} + \vec{c} = (9 + 1, -3 + 9, -12 - 5) = (10, 6, -17)$$

$$-5\vec{b} = (-10, -15, 25)$$

$$3\bar{d} = (0,33,-21)$$

$$-5\bar{b} + 3\bar{d} = (-10,-15 + 33,25 - 21) = (-10,18,4)$$

$$(-3\bar{a} + \bar{c}, -5\bar{b} + 3\bar{d}) = 10(-10) + 6 \cdot 18 - 17 \cdot 4 = -100 + 108 - 68 = -60$$

Ответ: $(-3\bar{a} + \bar{c}, -5\bar{b} + 3\bar{d}) = -60$

$$4) \cos(\hat{\bar{p}}, \hat{\bar{q}}) = \frac{(\bar{p}, \bar{q})}{|\bar{p}||\bar{q}|}$$

$$\begin{aligned} \cos(-3\bar{a} + \bar{c}, -5\bar{b} + 3\bar{d}) &= \frac{(-3\bar{a} + \bar{c}, -5\bar{b} + 3\bar{d})}{| -3\bar{a} + \bar{c} | | -5\bar{b} + 3\bar{d} |} = \\ &= \frac{-60}{\sqrt{10^2 + 6^2 + (-17)^2} \sqrt{(-10)^2 + 18^2 + 4^2}} = \frac{-60}{\sqrt{100 + 36 + 289} \sqrt{100 + 324 + 16}} = \end{aligned}$$

$$= \frac{-60}{\sqrt{425} \sqrt{440}} = \frac{-60}{5\sqrt{17} \cdot 2\sqrt{110}} = \frac{-6}{\sqrt{1870}}$$

Ответ: $\cos(-3\bar{a} + \bar{c}, -5\bar{b} + 3\bar{d}) = \frac{-6}{\sqrt{1870}}$

5) $[-3\bar{a} + \bar{c}, -5\bar{b} + 3\bar{d}]$ – векторное произведение

Найдем координаты векторов $-3\bar{a} + \bar{c}$ и $-5\bar{b} + 3\bar{d}$

$$-3\bar{a} + \bar{c} = (10,6,-17)$$

$$-5\bar{b} + 3\bar{d} = (-10,18,4)$$

Векторное произведение – это вектор, координаты которого можно найти по следующей формуле:

Если $\bar{p}(x_1, y_1, z_1)$

$$\bar{q}(x_2, y_2, z_2), \quad \text{to}$$

$$[\bar{p}, \bar{q}] = \begin{vmatrix} \bar{i} & \bar{j} & \bar{k} \\ x_1 & y_1 & z_1 \\ x_2 & y_2 & z_2 \end{vmatrix} = \bar{i} \begin{vmatrix} y_1 & z_1 \\ y_2 & z_2 \end{vmatrix} - \bar{j} \begin{vmatrix} x_1 & z_1 \\ x_2 & z_2 \end{vmatrix} + \bar{k} \begin{vmatrix} x_1 & y_1 \\ x_2 & y_2 \end{vmatrix} =$$

$$= (y_1 z_2 - y_2 z_1) \bar{i} + (x_2 z_1 - x_1 z_2) \bar{j} + (x_1 y_2 - x_2 y_1) \bar{k}$$

$$[-3\bar{a} + \bar{c}, -5\bar{b} + 3\bar{d}] = \begin{vmatrix} \bar{i} & \bar{j} & \bar{k} \\ 10 & 6 & -17 \\ -10 & 18 & 4 \end{vmatrix} = \bar{i} \begin{vmatrix} 6 & -17 \\ 18 & 4 \end{vmatrix} - \bar{j} \begin{vmatrix} 10 & -10 \\ -10 & -10 \end{vmatrix} + \bar{k} \begin{vmatrix} 10 & 6 \\ -10 & 18 \end{vmatrix} =$$

$$= (24 + 306) \bar{i} - (40 - 170) \bar{j} + (180 + 60) \bar{k} = 330 \bar{i} + 130 \bar{j} + 240 \bar{k}$$

Ответ: $[-3\bar{a} + \bar{c}, -5\bar{b} + 3\bar{d}] = 330\bar{i} + 130\bar{j} + 240\bar{k}$

б) $(\bar{a}, \bar{b}, \bar{c})$ - смешанное произведение

Если $\bar{a}(x_1, y_1, z_1)$ $\bar{b}(x_2, y_2, z_2)$ $\bar{c}(x_3, y_3, z_3)$

$$\text{то } (\bar{a}, \bar{b}, \bar{c}) = \begin{vmatrix} x_1 & y_1 & z_1 \\ x_2 & y_2 & z_2 \\ x_3 & y_3 & z_3 \end{vmatrix}$$

$$\bar{a}(-3, 1, 4) \quad \bar{b}(2, 3, -5) \quad \bar{c}(1, 9, -5)$$

$$(\bar{a}, \bar{b}, \bar{c}) = \begin{vmatrix} -3 & 1 & 4 \\ 2 & 3 & -5 \\ 1 & 9 & -5 \end{vmatrix} = -3 \begin{vmatrix} 3 & -5 \\ 9 & -5 \end{vmatrix} - 1 \begin{vmatrix} 2 & -5 \\ 1 & -5 \end{vmatrix} + 4 \begin{vmatrix} 2 & 3 \\ 1 & 9 \end{vmatrix} = -3$$

$$+ 4(18 - 3) = -90 + 5 + 60 = -25$$

Ответ: $(\bar{a}, \bar{b}, \bar{c}) = -25$

7) $(\bar{a}, \bar{b}, \bar{c}) = -25 \neq 0 \Rightarrow$ векторы $\bar{a}, \bar{b}, \bar{c}$ линейно независимы, значит образуют базис в \mathbb{R}^3

$$8) \text{пр}_{\bar{a}} \bar{d} = |\bar{d}| \cos(\bar{a}, \bar{d}) = |\bar{d}| \frac{(\bar{a}, \bar{d})}{|\bar{a}||\bar{d}|} = \frac{(\bar{a}, \bar{d})}{|\bar{a}|}$$

$$\bar{a}(-3, 1, 4) \quad \bar{d}(0, 11, -7)$$

$$(\bar{a}, \bar{d}) = -3 \cdot 0 + 1 \cdot 11 + 4(-7) = 11 - 28 = -17$$

$$|\bar{a}| = \sqrt{(-3)^2 + 1^2 + 4^2} = \sqrt{9 + 1 + 16} = \sqrt{26}$$

$$\text{пр}_{\bar{a}} \bar{d} = \frac{-17}{\sqrt{26}}$$

$$\text{Ответ: пр}_{\bar{a}} \bar{d} = \frac{-17}{\sqrt{26}}$$

Задача 3.

Дано: точки $Q(-3, 1), L(4, 9), P(4, 2)$.

Решение

1) Проверить, не лежат ли точки на одной прямой.

Если точки Q, L, P лежат на одной прямой, то вектор \overline{LP} коллинеарен вектору \overline{QL} , а значит их координаты должны быть пропорциональны (рис. 2.2). Координаты векторов: $\overline{QL}(4 - (-3), 9 - 1) = (7, 8)$; $\overline{LP}(0, 2 - 9) = (0, -7)$;

$\frac{0}{7} \neq \frac{-7}{8} \Rightarrow$ векторы \overline{QL} и \overline{QP} не коллинеарны \Rightarrow точки

Q, L, P не лежат на одной прямой.

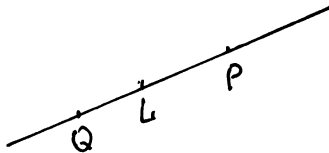


Рис. 2.2

2) Найти уравнение прямой QL .

Для любой точки $M(x, y)$, лежащей на прямой QL , вектор \overline{QM} должен быть коллинеарен вектору \overline{QL} (рис. 2.3), а значит, их координаты должны быть пропорциональны. Координаты векторов: $\overline{QM}(x+3, y-1)$; $\overline{QL}(7, 8)$, тогда

$$\frac{x+3}{7} = \frac{y-1}{8} \text{ — уравнение прямой } QL.$$

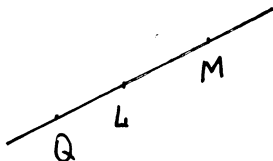


Рис. 2.3

3) Найти уравнение медианы, проведенной из вершины Q в ΔQPL (рис. 2.4).

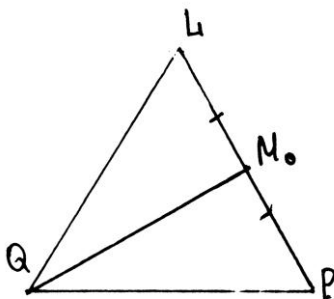


Рис. 2.4

Найдем координаты точки M_0 .

$$\overline{M_0P} = \frac{1}{2}\overline{LP}, \quad \text{так как} \quad |\overline{M_0P}| = |\overline{LM_0}| = \frac{1}{2}|\overline{LP}|;$$

$$\overline{LP}(0, -7) \Rightarrow \frac{1}{2}\overline{LP} = \left(0, -\frac{7}{2}\right); P(4, 2) \text{ — из условия.}$$

$$\text{Пусть } M(x_0, y_0, z_0), \text{ тогда } \overline{M_0P} = (4 - x_0, 2 - x_0) = \left(0, -\frac{7}{2}\right).$$

Два вектора равны, если равны их соответствующие координаты:

$$\begin{cases} 4 - x_0 = 0 \\ 2 - y_0 = -\frac{7}{2} \end{cases} \Rightarrow \begin{cases} x_0 = 4 \\ y_0 = \frac{11}{2} \end{cases} \Rightarrow M_0 \left(4, \frac{11}{2} \right).$$

Для любой точки $M(x, y)$, лежащей на прямой QM_0 , вектор \overline{QM} коллинеарен вектору $\overline{QM_0}$, а значит, координаты этих векторов должны быть пропорциональны. Координаты векторов:

$$\overline{QM_0} = \left(4 - (-3), \frac{11}{2} - 1 \right) = \left(7, \frac{9}{2} \right); \quad \overline{QM} = (x + 3, y - 1);$$

$$\frac{x + 3}{7} = \frac{y - 1}{9/2} \quad \text{умножим на } (1/2) -$$

$$\frac{x + 3}{14} = \frac{y - 1}{9} \quad \text{— получили уравнение медианы } QM_0.$$

4) Найти уравнение высоты, проведенной из вершины Q (рис. 2.5).

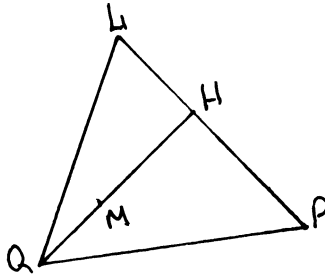


Рис. 2.5

QH — высота. Для любой точки $M(x, y)$, лежащей на прямой QH вектор \overline{QM} должен быть перпендикулярен вектору \overline{LP} , а значит $(\overline{QM}, \overline{LP}) = 0$.

Координаты векторов:

$$\overline{QM}(x + 3, y - 1); \quad \overline{LP}(0, -7), \quad \text{тогда}$$

$$(\overline{QM}, \overline{LP}) = 0(x + 3) - 7(y - 1) = 0;$$

$$-7(y - 1) = 0;$$

$$y - 1 = 0$$

$y = 1$ — получили уравнение высоты QH .

5) Найти координаты точки пересечения медиан в $\triangle QPL$ (рис. 2.6).

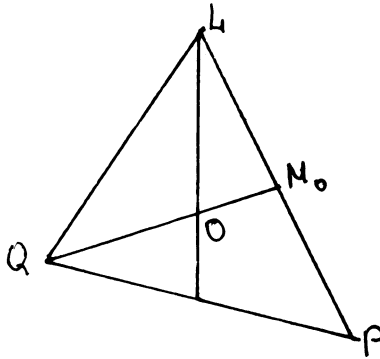


Рис. 2.6

Медианы треугольника делятся точкой их пересечения в соотношении 2:1:

$$\frac{|QO|}{|OM_0|} = \frac{2}{1} \Rightarrow \overline{QO} = \frac{2}{3} \overline{QM_0};$$

$$\overline{QM} \left(7, \frac{9}{2} \right) \Rightarrow \overline{QO} \left(\frac{2}{3} \cdot 7, \frac{2}{3} \cdot \frac{9}{2} \right) = \left(\frac{14}{3}, 3 \right).$$

Пусть $O(x, y)$, тогда $\overline{QO} = (x+3, y-1) = \left(\frac{14}{3}, 3 \right)$. Два вектора

равны, если их соответствующие координаты равны:

$$\begin{cases} x+3 = \frac{14}{3} \\ y-1 = 3 \end{cases} \Rightarrow \begin{cases} x = \frac{14}{3} - 3 = \frac{5}{3} \\ y = 4 \end{cases}.$$

$O\left(\frac{5}{3}, 4\right)$ – точка пересечения медиан $\triangle QPL$.

6) Найти угол между медианой и высотой, проведенными из вершины Q (рис. 2.7).

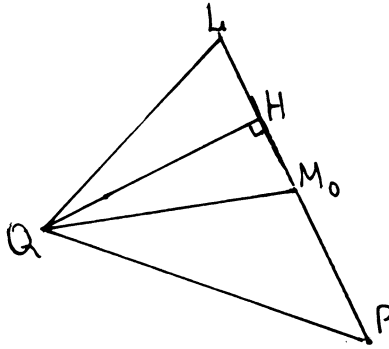


Рис. 2.7

Угол между прямыми на плоскости равен углу между их нормальными векторами. Уравнение прямой QH : $y = 1 \Rightarrow \bar{n}_2(0, 1)$.

Напишем общее уравнение прямой QM_0 , используя каноническое уравнение (см. п. 2 наст. задачи).

$$\frac{x+3}{14} = \frac{y-1}{9} \text{ умножим на 9 и на 14 -}$$

$$9(x+3) = 14(y-1);$$

$$9x+27 = 14y-14;$$

$$9x-14y+41=0 \text{ - общее уравнение прямой } QM_0 \Rightarrow$$

$$\bar{n}_1(9, -14).$$

$$\begin{aligned} \cos(\widehat{QM_0, QH}) &= \left| \cos(\widehat{\bar{n}_1, \bar{n}_2}) \right| = \frac{|(\bar{n}_1, \bar{n}_2)|}{|\bar{n}_1||\bar{n}_2|} = \\ &= \frac{|9 \cdot 0 - 14 \cdot 1|}{\sqrt{9^2 + (-14)^2} \sqrt{0+1}} = \frac{14}{\sqrt{81+196}} = \frac{14}{\sqrt{277}}. \end{aligned}$$

7) Найти расстояние от точки P до прямой QL (рис. 2.8).

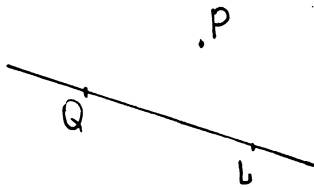


Рис. 2.8

Запишем уравнение прямой QL (см. п. 2 наст. задачи).

$$\frac{x+3}{7} = \frac{y-1}{8}.$$

Перейдем к общему уравнению прямой:

$$8(x+3) = 7(y-1);$$

$$8x + 24 = 7y - 7$$

$$8x - 7y + 31 = 0 - \text{получим общее уравнение прямой } QL.$$

Точка $P(4, 2) \notin QL$.

Используем формулу нахождения расстояния от точки $M(x_0, y_0)$ до прямой на плоскости. Пусть $L: Ax + By + C = 0$, тогда

$$\rho(M, L) = \frac{|Ax_0 + By_0 + C|}{\sqrt{A^2 + B^2}}.$$

В нашем случае

$$\rho(P, QL) = \frac{|8 \cdot 4 - 7 \cdot 2 + 31|}{\sqrt{8^2 + (-7)^2}} = \frac{|32 - 14 + 31|}{\sqrt{64 + 49}} = \frac{49}{\sqrt{113}}.$$

Задача 4.

Дано: точки $Q(-3, 1, 4)$; $L(-3, 2, 4)$; $P(3, 2, -5)$; $N(-3, 9, 2)$.

Решение

1) Проверить, что точки Q, L, P не лежат на одной прямой.

Если точки Q, L, P лежат на одной прямой, то векторы \overline{QL} и \overline{QP} коллинеарные, а значит их координаты должны быть пропорциональны (рис. 2.9).

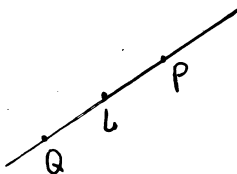


Рис. 2.9

Запишем координаты векторов:

$$\overline{QL}(0, 1, 0),$$

$$\overline{QP}(6, 1, -9),$$

$\frac{0}{6} \neq \frac{1}{1} \Rightarrow$ координаты векторов \overline{QL} и \overline{QP} не пропорциональны \Rightarrow точки Q, L, P не лежат на одной прямой.

2) Проверить, что точки Q, L, P и N не лежат в одной плоскости.

Если точки Q, L, P и N лежат в одной плоскости, то векторы \overline{QL} , \overline{QP} и \overline{QN} должны быть компланарны (рис. 2.10) $\Rightarrow (\overline{QL}, \overline{QP}, \overline{QN}) = 0$.

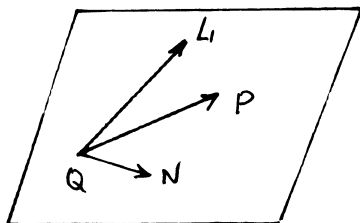


Рис. 2.10

Запишем координаты векторов $\overline{QL}(0, 1, 0)$, $\overline{QP}(6, 1, -9)$, $\overline{QN}(0, 8, -2)$.

$$(\overline{QL}, \overline{QP}, \overline{QN}) = \begin{vmatrix} 0 & 1 & 0 \\ 6 & 1 & -9 \\ 0 & 8 & -2 \end{vmatrix} = \begin{vmatrix} \text{разложим} \\ \text{по первой} \\ \text{строке} \end{vmatrix} =$$

$$= 0 \begin{vmatrix} 1 & -9 \\ 8 & -2 \end{vmatrix} - 1 \begin{vmatrix} 6 & -9 \\ 0 & -2 \end{vmatrix} + 0 \begin{vmatrix} 6 & 1 \\ 0 & 8 \end{vmatrix} = 12 \neq 0 \Rightarrow$$

\Rightarrow векторы $\overline{QN}, \overline{QP}, \overline{QL}$ не компланарны \Rightarrow точки Q, L, P и N не лежат в одной плоскости.

3) Написать общее уравнение плоскости проходящей через точки Q, L, P .

Для любой точки $M(x, y, z)$, лежащей в плоскости (Q, L, P) , векторы \overline{QL} , \overline{QP} и \overline{QM} должны быть компланарны (рис. 2.11), т. е.

$$(\overline{QM}, \overline{QL}, \overline{QP}) = 0.$$

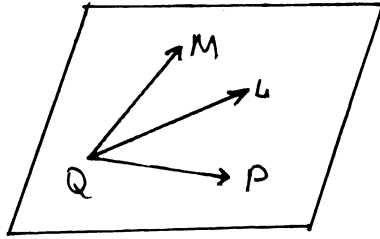


Рис. 2.11

Координаты векторов:

$\overrightarrow{QM} (x + 3, y - 1, z - 4)$; $\overrightarrow{QL} (0, 1, 0)$; $\overrightarrow{QP} (6, 1, -9)$, тогда

$$(\overrightarrow{QM}, \overrightarrow{QL}, \overrightarrow{QP}) = \begin{vmatrix} x+3 & y-1 & z-4 \\ 0 & 1 & 0 \\ 6 & 1 & -9 \end{vmatrix} = 0.$$

Разложим определитель по второй строке:

$$1 \begin{vmatrix} x+3 & z-4 \\ 6 & -9 \end{vmatrix} = 0.$$

$-9(x + 3) - 6(z - 4) = 0$ разделим на (-3) :

$3(x + 9) + 2(z - 4) = 0$;

$3x + 9 + 2z - 8 = 0$;

$3x + 2z + 1 = 0$ – получим общее уравнение плоскости (QLP) .

4) Написать уравнение плоскости, проходящей через точку N параллельно плоскости (QLP) (рис. 2.12).

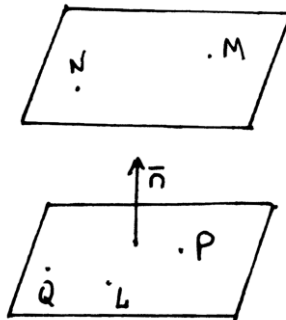


Рис. 2.12

$3x + 2z + 1 = 0$ – уравнение плоскости (QLP) (см. п.3).

$\vec{n}(3, 0, 2)$ – вектор нормали плоскости (QLP).

Искомая плоскость параллельна плоскости (QLP) \Rightarrow для любой точки $M(x, y, z)$, лежащей в этой плоскости, вектор \vec{NM} перпендикулярен вектору $\vec{n}(3, 0, 2) \Rightarrow$ их скалярное произведение равно 0;

$$(\vec{NM}, \vec{n}) = 0.$$

Координаты вектора \vec{MN} :

$\vec{MN}(x + 3, y - 9, z - 2)$, тогда

$$3(x + 3) + 0(y - 9) + 2(z - 2) = 0;$$

$$3x + 9 + 2z - 4 = 0;$$

$3x + 2z + 5 = 0$ – получим уравнение плоскости параллельной плоскости (QLP) и проходящей через точку N .

5) Уравнение плоскости, проходящей через точку L , параллельно векторам \vec{QP} и \vec{QN} .

Запишем координаты векторов:

$$\vec{QP}(6, -1, 9); \vec{QN}(0, 8, -2).$$

Векторы \vec{QP} и \vec{QN} параллельны искомой плоскости и для любой точки $M(x, y, z)$, лежащей в этой плоскости, вектор \vec{LM} лежит в этой плоскости, следовательно векторы \vec{QP} , \vec{QN} , \vec{LM} должны быть компланарными \Rightarrow их смешанное произведение равно 0. Координаты вектора \vec{LM} :

$\vec{LM}(x + 3, y - 2, z - 4)$, тогда

$$(\vec{LM}, \vec{QP}, \vec{QN}) = \begin{vmatrix} x+3 & y-2 & z-4 \\ 6 & 1 & -9 \\ 0 & 8 & -2 \end{vmatrix} = 0;$$

$$(x+3) \begin{vmatrix} 1 & -9 \\ 8 & -2 \end{vmatrix} - (y-2) \begin{vmatrix} 6 & -9 \\ 0 & -2 \end{vmatrix} + (z-4) \begin{vmatrix} 6 & 1 \\ 0 & 8 \end{vmatrix} = 0;$$

$$(x+3)(-2+72) - (y-2)(-12) + (z-4)(48-0) = 0;$$

$$70(x+3) + 12(y-2) + 48(z-4) = 0; \text{ разделим на 2:}$$

$$35(x+3) + 6(y-2) + 24(z-4) = 0;$$

$$35x + 105 + 6y - 12 + 24z - 96 = 0;$$

$35x + 6y + 24z - 3 = 0$ – получим уравнение плоскости, проходящей через точку L параллельно векторам \overline{QP} и \overline{QN} .

б) Найти уравнение плоскости, проходящей через точки Q и N , перпендикулярно плоскости (QLP) (рис. 2.13).

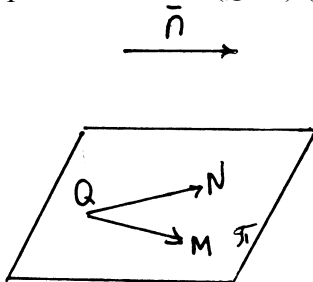


Рис. 2.13

Уравнение плоскости (QLP) : $3x + 2z + 1 = 0$, вектор нормали плоскости (QLP) $\bar{n}(3, 0, 2)$.

Точки Q и N принадлежат искомой плоскости π , значит вектор \overline{QN} лежит в этой плоскости $\overline{QN}(0, 8, -2)$.

Плоскость π перпендикулярна плоскости (QLP) , а значит вектор $\bar{n}(3, 0, 2)$ параллелен плоскости π . Для любой точки $M(x, y, z)$, лежащей в плоскости π , вектор $\overline{QM}(x + 3, y - 1, z - 4)$ также лежит в этой плоскости. Тогда векторы \overline{QN} , \overline{QM} и \bar{n} должны быть компланарны, а значит их смешанное произведение должно быть равно 0.

$$(\overline{QM}, \overline{QN}, \bar{n}) = 0, \text{ или}$$

$$(\overline{QM}, \overline{QN}, \bar{n}) = \begin{vmatrix} x+3 & y-1 & z-4 \\ 0 & 8 & -2 \\ 3 & 0 & 2 \end{vmatrix} = 0;$$

$$(x+3) \begin{vmatrix} 8 & -2 \\ 0 & 2 \end{vmatrix} - (y-1) \begin{vmatrix} 0 & -2 \\ 3 & 2 \end{vmatrix} + (z-4) \begin{vmatrix} 0 & 8 \\ 3 & 0 \end{vmatrix} = 0;$$

$$(x+3)(16-0) - (y-1)(0+6) + (z-4)(0-24) = 0;$$

$$16(x+3) - 6(y-1) - 24(z-4) = 0 \text{ разделим на 2:}$$

$$8(x+3) - 3(y-1) - 12(z-4) = 0;$$

$$8x + 24 - 3y + 1 - 12z + 48 = 0;$$

$8x - 3y - 12z + 75 = 0$ – получим уравнение плоскости, проходящей через точки Q и N , перпендикулярно плоскости (QLP) .

7) Написать уравнение плоскости, проходящей через точки L и Q параллельно вектору \overline{NP} (рис. 2.14).

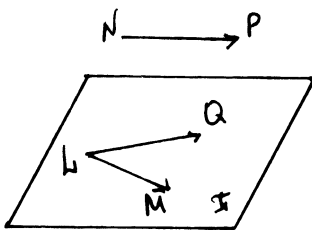


Рис. 2.14

Вектор \overline{NP} параллелен искомой плоскости π .

Тогда для любой точки $M(x, y, z)$, лежащей в плоскости π , векторы \overline{LQ} , \overline{NP} , \overline{LM} должны быть компланарны, а значит их смешанное произведение должно быть равно 0. Координаты векторов:

$$\overline{LQ} (0, -1, 0); \quad \overline{NP} (6, -7, -7); \quad \overline{LM} (x + 3, y - 2, z - 4).$$

Тогда

$$(\overline{LQ}, \overline{NP}, \overline{LM}) = \begin{vmatrix} x+3 & y-2 & z-4 \\ 0 & -1 & 0 \\ 6 & -7 & -7 \end{vmatrix} = 0;$$

$$(x+3) \begin{vmatrix} -1 & 0 \\ -7 & -7 \end{vmatrix} - (y-2) \begin{vmatrix} 0 & 0 \\ 6 & -7 \end{vmatrix} + (z-4) \begin{vmatrix} 0 & -1 \\ 6 & -7 \end{vmatrix} = 0;$$

$$7(x+3) + 6(z-4) = 0;$$

$$7x + 21 + 6z - 24 = 0.$$

$7x + 6z - 3 = 0$ – получили уравнение плоскости, проходящей через точки L и Q параллельно вектору \overline{NP} .

8) Написать уравнение плоскости, проходящей через точку N параллельно координатной плоскости XOZ .

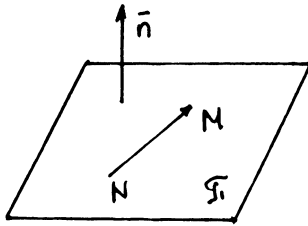


Рис. 2.15

Уравнение плоскости XOZ : $y = 0$, вектор нормали плоскости XOZ : $\vec{n}(0, 1, 0)$.

Искомая плоскость π параллельна плоскости XOZ , следовательно плоскость π перпендикулярна вектору \vec{n} . Для любой точки $M(x, y, z)$ лежащей в плоскости π , вектор \vec{NM} перпендикулярен вектору \vec{n} (рис. 2.15), а значит их скалярное произведение должно быть равно 0:

$$\vec{NM} \perp \vec{n} \Rightarrow (\vec{NM}, \vec{n}) = 0;$$

$$\vec{NM}(x+3, y, z-2);$$

$$0(x+3) + 1(y-9) + 0(z-2) = 0.$$

$y - 9 = 0$ – получим уравнение плоскости, проходящей через точку N параллельно плоскости XOZ .

9) Написать общее, каноническое и параметрическое уравнения прямой QP .

Напомним координаты точек: $Q(-3, 1, 4)$; $P(3, 2, -5)$

Для любой точки $M(x, y, z)$ лежащей на прямой QP вектор \vec{QM} коллинеарен вектору \vec{QP} (рис. 2.16), а значит координаты этих векторов должны быть пропорциональны.

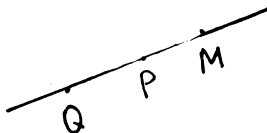


Рис. 2.16

Координаты векторов:

$$\overline{QM}(x+3, y-1, z-4); \overline{QP}(6, 1, -9);$$

$$\frac{x+3}{6} = \frac{y-1}{1} = \frac{z-4}{-9} \quad - \text{ получили каноническое уравнение}$$

прямой QP .

Напишем параметрическое уравнение прямой:

$$\frac{x+3}{6} = \frac{y-1}{1} = \frac{z-4}{-9} = t;$$

$$\begin{cases} x = -3 + 6t, \\ y = 1 + t, \\ z = 4 - 9t \end{cases} \quad - \text{ параметрическое уравнение прямой } QP.$$

Напишем общее уравнение прямой QP – как линии пересечения плоскостей (QNP) и (QPL) (рис. 2.17).

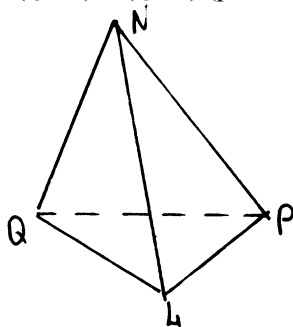


Рис. 2.17

Уравнение плоскости (QPL) : $3x + 2z + 1 = 0$ (см. п. 3).

Напишем уравнение плоскости (QNP) : для любой точки $M(x, y, z)$, лежащей в плоскости (QNP) , векторы \overline{QM} , \overline{QP} и \overline{QN} должны быть компланарны $\Rightarrow (\overline{QM}, \overline{QP}, \overline{QN}) = 0$. Координаты векторов: $\overline{QM}(x+3, y-1, z-4)$; $\overline{QP}(6, 1, -9)$; $\overline{QN}(0, 8, -2)$.

$$(\overline{QM}, \overline{QP}, \overline{QN}) = \begin{vmatrix} x+3 & y-1 & z-4 \\ 6 & 1 & -9 \\ 0 & 8 & -2 \end{vmatrix} = 0;$$

$$(x+3) \begin{vmatrix} 1 & -9 \\ 8 & -2 \end{vmatrix} - 6 \begin{vmatrix} y-1 & z-4 \\ 8 & -2 \end{vmatrix} = 0;$$

$$(x+3)(-2+72) - 6(-2(y-1) - 8(z-4)) = 0;$$

$$70(x + 3) + 12(y - 1) + 48(z - 4) = 0 \text{ – разделим на 2;}$$

$$35(x + 3) + 6(y - 1) + 24(z - 4) = 0;$$

$$35x + 105 + 6y - 6 + 24z - 96 = 0.$$

$$35x + 6y + 24z + 3 = 0 \text{ – уравнение плоскости } (QNP);$$

$$\begin{cases} 35x + 6y + 24z + 3 = 0 \\ 3x + 2z + 1 = 0 \end{cases} \text{ – общее уравнение прямой } QP.$$

10) Написать уравнение прямой, проходящей через точку Q параллельно оси OZ (рис. 2.18).

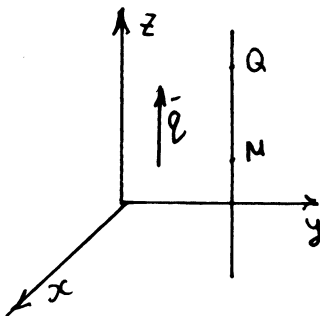


Рис. 2.18

Точка $Q(-3, 1, 4)$.

Для любой точки $M(x, y, z)$, лежащей на искомой прямой, вектор \overline{QM} коллинеарен вектору $\vec{q}(0, 0, 1)$, а значит, координаты векторов \vec{q} и \overline{QM} должны быть пропорциональны. Координаты вектора: $\overline{QM}(x+3, y-1, z-4)$;

$$\frac{x+3}{0} = \frac{y-1}{0} = \frac{z-4}{1} \text{ – каноническое уравнение прямой,}$$
 проходящей через точку Q параллельно оси OZ .

11) Написать уравнение медианы QM в $\triangle QPL$ (рис. 2.19).

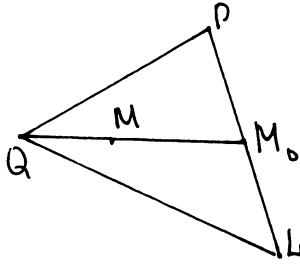


Рис. 2.19

Найдем координаты точки $M_0(x_0, y_0, z_0)$:

$$\overline{M_0P} = \frac{1}{2} \overline{LP};$$

$$\overline{LP}(6, 0, -9);$$

$$\overline{M_0P} = \left(\frac{6}{2}, 0, \frac{1}{2}(-9) \right) = \left(3, 0, -\frac{9}{2} \right).$$

Тогда $\overline{M_0P}(3 - x_0, 2 - y_0, -5 - z_0) = \left(3, 0, -\frac{9}{2} \right)$. Два вектора

равны, если равны их координаты:

$$\begin{cases} 3 - x_0 = 3 \\ 2 - y_0 = 0 \\ -5 - z_0 = -\frac{9}{2} \end{cases} \Rightarrow \begin{cases} x_0 = 0 \\ y_0 = 2 \\ z_0 = -5 + \frac{9}{2} = -\frac{1}{2} \end{cases} \Rightarrow M_0 \left(0, 2, -\frac{1}{2} \right).$$

Для любой точки $M(x, y, z)$, лежащей на прямой QM_0 , вектор \overline{QM} коллинеарен вектору $\overline{QM_0}$, а значит координаты векторов \overline{QM} и $\overline{QM_0}$ должны быть пропорциональны:

$$\overline{QM}(x + 3, y - 1, z - 4); \overline{QM_0}(0 + 3, 2 - 1, -\frac{1}{2} - 4) = \left(3, 1, -\frac{9}{2} \right);$$

$$\frac{x + 3}{3} = \frac{y - 1}{1} = \frac{z - 4}{-9/2} \text{ умножим на } 1/2;$$

$$\frac{x + 3}{6} = \frac{y - 1}{2} = \frac{z - 4}{-9} \text{ — уравнение медианы } QM \text{ в } \Delta QPL.$$

12) Написать уравнение высоты QH_1 в $\triangle QPL$ (рис. 2.20).

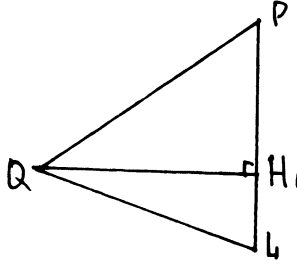


Рис. 2.20

Уравнение плоскости (QPL): $3x + 2z + 1 = 0$ (см. п. 3).

Через точку Q проведем плоскость π , перпендикулярную прямой PL .

$P(3, 2, -5)$; $L(-3, 2, 4)$.

Для любой точки $M(x, y, z)$, лежащей в плоскости π , вектор \overline{QM} будет перпендикулярен вектору \overline{PL} , а значит их скалярное произведение должно быть равно 0.

$$(\overline{QM}, \overline{QP}) = 0; \quad \overline{QM}(x+3, y-1, z-4);$$

$$\overline{PL}(-6, 0, 9);$$

$$(\overline{QM} \cdot \overline{PL}) = -6(x+3) + 0(y-1) + 9(z-4) = 0;$$

$$-6x - 18 + 9z - 36 = 0;$$

$$-6x + 9z - 54 = 0 \text{ разделим на } -3;$$

$$2x - 3z + 18 = 0 \text{ – уравнение плоскости } \pi.$$

Тогда прямая QH_1 – это линия пересечения плоскостей (QPL)

и π :

$$QH_1 : \begin{cases} 3x + 2z + 1 = 0, \\ 2x - 3z + 18 = 0. \end{cases}$$

Напишем каноническое уравнение этой прямой.

$\overline{n}_1(3, 0, 2)$ – нормальный вектор плоскости (QPL);

$\overline{n}_2(2, 0, -3)$ – нормальный вектор плоскости π .

Прямая QH_1 перпендикулярна векторам \overline{n}_1 и \overline{n}_2 , тогда прямая QH_1 параллельна вектору векторного произведения векторов \overline{n}_1 и \overline{n}_2 .

$$[\bar{n}_1, \bar{n}_2] = \begin{vmatrix} \bar{i} & \bar{j} & \bar{k} \\ 3 & 0 & 2 \\ 2 & 0 & -3 \end{vmatrix} = \bar{i} \begin{vmatrix} 0 & 2 \\ 0 & -3 \end{vmatrix} - \bar{j} \begin{vmatrix} 3 & 2 \\ 2 & -3 \end{vmatrix} + \bar{k} \begin{vmatrix} 3 & 0 \\ 2 & 0 \end{vmatrix} =$$

$$= -\bar{j}(-9-4) = 13\bar{j}.$$

$\bar{q} \parallel [n_1 n_2] \Rightarrow \bar{q}(0, 1, 0)$. Прямая L параллельна вектору \bar{q} , а значит для любой точки $M(x, y, z)$, лежащей на прямой L , вектор \overline{QM} коллинеарен вектору \bar{q} , следовательно их координаты должны быть пропорциональны.

$$\overline{QM}(x+3, y-1, z-4), \bar{q}(0, 1, 0).$$

$$\frac{x+3}{0} = \frac{y-1}{1} = \frac{z-4}{0} \text{ — каноническое уравнение прямой } \underline{QH}_1.$$

13) Написать уравнение прямой, проходящей через точку N параллельно прямой \overline{QP} (рис. 2.21).

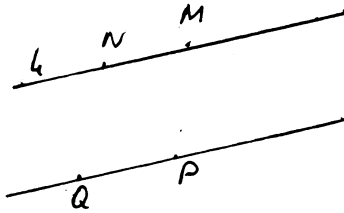


Рис. 2.21

$$\text{Уравнение прямой } \overline{QP}: \frac{x+3}{6} = \frac{y-1}{1} = \frac{z-4}{-9} \text{ (см. п. 9).}$$

$$\bar{N}(-3, 9, 2).$$

Для любой точки $M(x, y, z)$, лежащей на прямой L , вектор \overline{NM} $(x+3, y-9, z-2)$ коллинеарен вектору $\overline{QP}(6, 1, -9)$, а значит, их координаты должны быть пропорциональны.

$$\frac{x+3}{6} = \frac{y-1}{1} = \frac{z-4}{-9} \text{ — каноническое уравнение прямой,}$$

проходящей через точку N параллельно прямой \overline{QP} .

14) Написать уравнение высоты NH тетраэдра $QLPN$ (рис. 2.22).

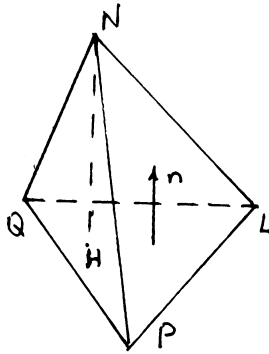


Рис. 2.22

Уравнение плоскости QLP : $3x + 2z + 1 = 0$ (см. п. 3).

$\vec{n}(3, 0, 2)$ – нормальный вектор плоскости QLP .

Прямая NH перпендикулярна плоскости (QPL), значит она параллельна вектору \vec{n} (нормальному вектору плоскости QLP).

Для любой точки $M(x, y, z)$, лежащей на прямой NH , вектор $\overline{NM}(x + 3, y - 9, z - 2)$ должен быть коллинеарен вектору $\vec{n}(3, 0, 2)$, а значит, координаты этих векторов должны быть пропорциональны.

$$\frac{x+3}{3} = \frac{y-9}{0} = \frac{z-2}{2} \text{ – каноническое уравнение высоты } NH.$$

15) Написать уравнение прямой, перпендикулярной прямым QP и QN и переходящей через точку L (рис. 2.23).

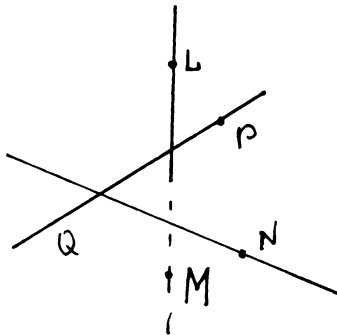


Рис. 2.23

Прямая l перпендикулярна прямым QP и QN , а значит прямая l параллельна вектору векторного произведения векторов \overline{QP} и \overline{QN} .

$$\overline{QP} = (6, 1, -9), \overline{QN} = (0, 8, -2);$$

$$[\overline{QP}, \overline{QN}] = \begin{vmatrix} \bar{i} & \bar{j} & \bar{k} \\ 6 & 1 & -9 \\ 0 & 8 & -2 \end{vmatrix} = \bar{i} \begin{vmatrix} 1 & -9 \\ 8 & -2 \end{vmatrix} - \bar{j} \begin{vmatrix} 6 & -9 \\ 0 & -2 \end{vmatrix} + \bar{k} \begin{vmatrix} 6 & 1 \\ 0 & 8 \end{vmatrix} =$$

$$= \bar{i}(-2+72) - \bar{j}(-12-0) + \bar{k}(48-0) = 70\bar{i} + 12\bar{j} + 48\bar{k}.$$

$$[\overline{QP}, \overline{QN}] = (70, 12, 48) \Rightarrow \bar{q}(35, 6, 24).$$

Для любой точки $M(x, y, z)$, лежащей на прямой l , вектор \overline{LM} должен быть коллинеарен вектору \bar{q} , а значит их координаты должны быть пропорциональны.

$$\overline{LM}(x+3, y-2, z-4), \bar{q}(35, 6, 24).$$

$$\frac{x+3}{35} = \frac{y-2}{6} = \frac{z-4}{24} \quad - \text{ каноническое уравнение прямой,}$$

проходящей через точку L перпендикулярно прямым QP и QN .

16) Найти угол между прямой QP и прямой LN .

$$\text{Уравнение прямой } QP: \frac{x+3}{6} = \frac{y-1}{1} = \frac{z-4}{-9} \quad (\text{см .п. 9}).$$

Напишем уравнение прямой LN .

Для любой точки $M(x, y, z)$ вектор \overline{LM} должен быть коллинеарен вектору \overline{LN} (рис. 2.24), а значит их координаты должны быть пропорциональны.

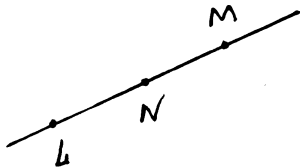


Рис. 2.24

$$\overline{LM}(x+3, y-2, z-4), \overline{LN}(0, 7, -2).$$

$$\frac{x+3}{0} = \frac{y-2}{7} = \frac{z-4}{-2} \quad - \text{ уравнение прямой } LN.$$

Угол между прямыми в пространстве равен углу между их направляющими векторами.

$\vec{q}_1(6, 1, -9)$ – направляющий вектор прямой QP .

$\vec{q}_2(0, 7, -2)$ – направляющий вектор прямой LN .

$$\cos(\widehat{QP, LN}) = \left| \cos(\vec{q}_1, \vec{q}_2) \right| = \frac{|\langle \vec{q}_1, \vec{q}_2 \rangle|}{|\vec{q}_1| \cdot |\vec{q}_2|} =$$

$$= \frac{|6 \cdot 0 + 7 \cdot 1 - 9(-2)|}{\sqrt{6^2 + 1 + (-9)^2} \cdot \sqrt{0 + 7^2 + (-2)^2}} =$$

$$= \frac{|7 + 18|}{\sqrt{36 + 1 + 81} \cdot \sqrt{49 + 4}} = \frac{25}{\sqrt{6254}}.$$

$\varphi = \arccos \frac{25}{\sqrt{6254}}$ – угол между прямыми QP и LN .

17) Найти угол между прямой PN и плоскостью (QPL) .

Уравнение плоскости (QPL) : $3x + 2z + 1 = 0$ (см. п. 3).

$\vec{n}(3, 0, 2)$ – нормальный вектор плоскости (QPL) .

Напишем уравнение прямой PN .

Для любой точки $M(x, y, z)$, лежащей на прямой PN , вектор \overline{PM} коллинеарен вектору \overline{PN} (рис. 2.25), а значит их координаты должны быть пропорциональны.

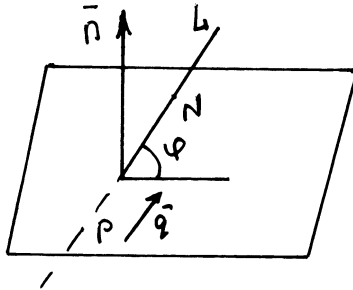


Рис. 2.25

$\overline{PN}(-6, 7, 7)$, $\overline{PM}(x-3, y-2, z+5)$.

$\frac{x-3}{-6} = \frac{y-2}{7} = \frac{z+5}{7}$ – уравнение прямой PN .

$\vec{q}(-6, 7, 7)$ – направляющий вектор прямой PN .

φ – угол между прямой и плоскостью (рис. 2.25).

$$\begin{aligned} \sin \varphi &= \sin 9((QPL), \hat{PN}) = \left| \cos(\vec{q}, \vec{n}) \right| = \frac{|(\vec{q}, \vec{n})|}{|\vec{q}| \cdot |\vec{n}|} = \\ &= \frac{|-6 \cdot 3 + 0 \cdot 7 + 2 \cdot 7|}{\sqrt{3^2 + 2^2} \sqrt{(-6)^2 + 7^2 + 7^2}} = \frac{|-18 + 14|}{\sqrt{9 + 4} \sqrt{36 + 49 + 49}} = \\ &= \frac{4}{\sqrt{13} \cdot \sqrt{134}} = \frac{4}{\sqrt{1742}}. \end{aligned}$$

$\varphi = \arcsin \frac{4}{\sqrt{1742}}$ – угол между плоскостью (QPL) и прямой

PN .

18) Найти величину двугранного угла между плоскостями (QPL) и (NPQ) .

Уравнение плоскости (QPL) : $3x + 2z + 1 = 0$ (см. п. 3).

$\vec{n}_1(3, 0, 2)$ – нормальный вектор плоскости (QPL) .

Уравнение плоскости (QPN) : $35x + 6y + 24z + 3 = 0$ (см. п. 9).

$$S_{\Delta NQM} = \frac{1}{2} |QM| h = \frac{1}{2} |[\vec{QN}, \vec{QM}]| \Rightarrow h = \frac{|[\vec{QN}, \vec{q}]|}{|\vec{q}|} \text{ – нормальный}$$

вектор плоскости (QPN) .

Угол между плоскостями равен углу между их нормальными векторами.

$$\begin{aligned} \cos \varphi &= \cos((QPL), \hat{(QPN)}) = \left| \cos(\vec{n}_1, \vec{n}_2) \right| = \\ &= \frac{|(\vec{n}_1, \vec{n}_2)|}{|\vec{n}_1| \cdot |\vec{n}_2|} = \frac{|3 \cdot 35 + 0 \cdot 6 + 2 \cdot 24|}{\sqrt{3^2 + 2^2} \cdot \sqrt{35^2 + 6^2 + 24^2}} = \\ &= \frac{|105 + 48|}{\sqrt{13} \sqrt{1225 + 36 + 576}} = \frac{153}{\sqrt{13} \sqrt{1837}} \frac{153}{\sqrt{23881}}. \end{aligned}$$

$\varphi = \arccos \frac{153}{\sqrt{23881}}$ – величина двугранного угла между

плоскостями (QPL) и (NPQ) .

19) Найти площадь ΔQLP .

$S_{\Delta QLP} = \frac{1}{2} S$, где S – площадь параллелограмма, построенного на векторах \overline{QP} и \overline{QL} (рис. 2.26).

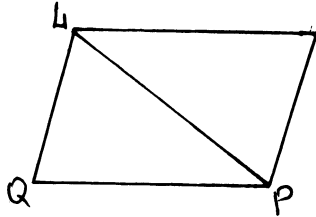


Рис. 2.26

$$\overline{QL}(0, 1, 0), \overline{QP}(6, 1, -9);$$

$$S_{\Delta QLP} = \frac{1}{2} |\overline{QL} \cdot \overline{QP}|;$$

$$[\overline{QL}, \overline{QP}] = \begin{vmatrix} \bar{i} & \bar{j} & \bar{k} \\ 0 & 1 & 0 \\ 6 & 1 & -9 \end{vmatrix} = \bar{i} \begin{vmatrix} 1 & 0 \\ 1 & -9 \end{vmatrix} - \bar{j} \begin{vmatrix} 0 & 0 \\ 6 & -9 \end{vmatrix} + \bar{k} \begin{vmatrix} 0 & 1 \\ 6 & 1 \end{vmatrix} = -9\bar{i} - 6\bar{k};$$

$$|[\overline{QL}, \overline{QP}]| = \sqrt{(-9)^2 + (-6)^2} = \sqrt{81 + 36} = \sqrt{117}.$$

$$S_{\Delta QLP} = \frac{\sqrt{117}}{2}.$$

20) Найти объем тетраэдра $QLNP$.

$V_{QLNP} = \frac{1}{6} V$, где V – объем параллелепипеда, построенного на векторах \overline{QL} , \overline{QN} , \overline{QP} .

$V = |(\overline{QL}, \overline{QN}, \overline{QP})|$ – модуль смешанного произведения.

$$\overline{QL}(0, 1, 0), \overline{QP}(6, 1, -9), \overline{QN}(0, 8, -2);$$

$$(\overline{QL}, \overline{QN}, \overline{QP}) = \begin{vmatrix} 0 & 1 & 0 \\ 6 & 1 & -9 \\ 0 & 8 & -2 \end{vmatrix} = -1 \begin{vmatrix} 6 & -9 \\ 0 & -2 \end{vmatrix} = 12 \Rightarrow$$

$$\Rightarrow V = 12 \Rightarrow V_{QLNP} = \frac{1}{6} \cdot 12 = 2.$$

21) Найти расстояние от точки N до прямой QP (рис. 2.27).

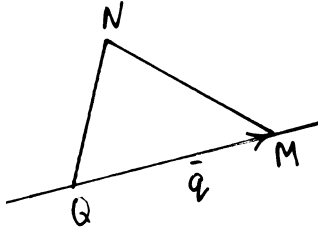


Рис. 2.27

1 способ

Уравнение прямой QP : $\frac{x+3}{6} = \frac{y-1}{1} = \frac{z-4}{-9}$ (см. п. 9).

$\bar{q} = \overline{QM} = (6, 1, -9)$ – направляющий вектор прямой QM .

$$S_{\Delta NQM} = \frac{1}{2} |QM| h = \frac{1}{2} |\overline{QN}, \overline{QM}| \Rightarrow h = \frac{|\overline{QN}, \bar{q}|}{|\bar{q}|}.$$

$$\overline{QN} = (0, 8, -2).$$

$$|\overline{QN}, \bar{q}| = \begin{vmatrix} \bar{i} & \bar{j} & \bar{k} \\ 0 & 8 & -2 \\ 6 & 1 & -9 \end{vmatrix} = \bar{i} \begin{vmatrix} 8 & -2 \\ 1 & -9 \end{vmatrix} - \bar{j} \begin{vmatrix} 0 & -2 \\ 6 & -9 \end{vmatrix} + \bar{k} \begin{vmatrix} 0 & 8 \\ 6 & 1 \end{vmatrix} =$$

$$= (-72 + 2)\bar{i} - \bar{j}(0 + 12) + \bar{k}(0 - 48) = -70\bar{i} - 12\bar{j} - 48\bar{k}.$$

$$|\overline{QN}, \bar{q}| = \sqrt{(-70)^2 + (-12)^2 + (48)^2} =$$

$$= \sqrt{4900 + 144 + 2304} = \sqrt{7348}.$$

$$|\bar{q}| = \sqrt{6^2 + 1^2 + (-9)^2} = \sqrt{36 + 1 + 81} = \sqrt{118}.$$

$$h = \frac{\sqrt{7348}}{\sqrt{118}} = \frac{\sqrt{3674}}{\sqrt{59}}.$$

2 способ

Напишем уравнение плоскости π , проходящей через точку N перпендикулярно прямой QP (рис. 2.28).

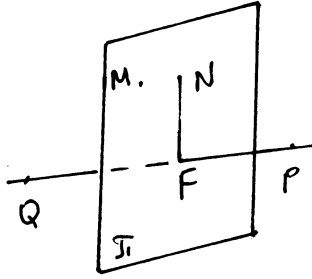


Рис. 2.28

Уравнение прямой QP : $\frac{x+3}{6} = \frac{y-1}{1} = \frac{z-4}{-9}$.

$\vec{q}(6, 1, -9)$ – направляющий вектор прямой QP .

Плоскость π перпендикулярна прямой QP , а значит $\vec{q} \perp \pi$.

Для любой точки $M(x, y, z)$, лежащей в плоскости π , вектор \overline{NM} перпендикулярен вектору $\vec{q}(6, 1, -9) \Rightarrow (\overline{NM} \cdot \vec{q}) = 0$.

$$\overline{NM}(x+3, y-9, z-2);$$

$$6(x+3) + (y-9) - 9(z-2) = 0;$$

$$6x + 18 + y - 9 - 9z + 18 = 0;$$

$$\pi: 6x + y - 9z + 27 = 0.$$

Найдем координаты точки F – точки пересечения прямой QP и плоскости π .

Для этого запишем параметрическое уравнение прямой QP :

$$\frac{x+3}{6} = \frac{y-1}{1} = \frac{z-4}{-9} = t;$$

$$\begin{cases} x = -3 + 6t, \\ y = 1 + t, \\ z = 4 - 9t. \end{cases}$$

Точка $F(x_0, y_0, z_0)$ лежит на прямой $QP \Rightarrow x_0 = -3 + 6t_0; y_0 = 1 + t_0; z_0 = 4 - 9t_0$. Точка F лежит в плоскости $\pi \Rightarrow 6x_0 + y_0 - 9z_0 + 27 = 0;$

$$6(-3 + 6t_0) + 1 + t_0 - 9(4 - 9t_0) + 27 = 0;$$

$$-18 + 36t_0 + 1 + t_0 - 36 + 81t_0 + 27 = 0;$$

$$118t_0 - 26 = 0 \Rightarrow t_0 = \frac{26}{118} = \frac{13}{59}.$$

$$\begin{cases} x_0 = -3 + 6 \cdot \frac{13}{59} = -\frac{99}{59} \\ y_0 = 1 + \frac{13}{59} = \frac{72}{59} \\ z_0 = 4 - 9 \cdot \frac{13}{59} = \frac{119}{59} \end{cases} \Rightarrow$$

$$F\left(-\frac{99}{59}, \frac{72}{59}, \frac{119}{59}\right), N(-3, 9, 2);$$

$$\overline{NF} = \left(-\frac{99}{59} + 3, \frac{72}{59} - 9, \frac{119}{59} - 2\right) = \left(\frac{78}{59}, -\frac{459}{59}, \frac{1}{59}\right);$$

$$\begin{aligned} \rho(N, (QP)) &= |\overline{NF}| = \sqrt{\left(\frac{78}{59}\right)^2 + \left(\frac{459}{59}\right)^2 + \left(\frac{1}{59}\right)^2} = \\ &= \frac{\sqrt{6084 + 210681 + 1}}{59} = \frac{\sqrt{216766}}{59} = \sqrt{\frac{3674}{59}}. \end{aligned}$$

22) Найти расстояние от точки N до плоскости (QLP) (рис. 2.29).

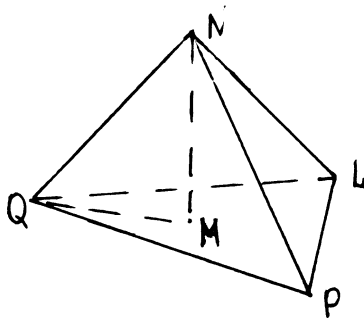


Рис. 2.29

Уравнение плоскости QLP : $3x + 2z + 1 = 0$ (см. п. 3).

1 способ

В п. 19 и 20 было найдено:

$$V_{QLNP} = 2;$$

$$S_{\Delta QLP} = \frac{\sqrt{117}}{2};$$

$$V_{QLNP} = \frac{1}{3} S_{\text{осн}} \cdot H \Rightarrow H = \frac{3V_{QLNP}}{S_{\text{осн}}} = \frac{3 \cdot 2 \cdot 2}{\sqrt{117}} = \frac{12}{\sqrt{117}};$$

$$|NM| = \frac{12}{\sqrt{117}} = \frac{12}{3\sqrt{13}} = \frac{4}{\sqrt{13}}.$$

2 способ

Расстояние от точки $M(x_0, y_0, z_0)$ до плоскости $\pi: Ax + By + Cz + D = 0$ можно вычислить по формуле

$$\rho(M, \pi) = \frac{|Ax_0 + By_0 + Cz_0 + D|}{\sqrt{A^2 + B^2 + C^2}}.$$

$$N(-3, 9, 2), QLP: 3x + 2z + 1 = 0;$$

$$\rho(N, QLP) = \frac{|3(-3) + 0 \cdot 9 + 2 \cdot 2 + 1|}{\sqrt{9 + 4}} = \frac{|-9 + 4 + 1|}{\sqrt{13}} = \frac{4}{\sqrt{13}}.$$

3 способ

ΔQMN – прямоугольный (рис. 2.30) \Rightarrow

$$|NM| = |QN| \cos \angle QNM; \quad \overline{ON}(0, 8, -2);$$

$$|QN| = \sqrt{64 + 4} = \sqrt{68}.$$

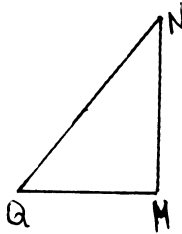


Рис. 2.30

$$\cos \angle QNM = \left| \cos(\overline{QN}, \hat{\overline{q}}) \right|, \quad \text{где } \overline{n}(3, 0, 2) \text{ – нормальный}$$

вектор плоскости (QLP).

$$\cos \angle QNM = \frac{|(\overline{QN}, \overline{n})|}{|\overline{QN}| |\overline{n}|} = \frac{|0 \cdot 3 + 8 \cdot 0 + 2(-2)|}{\sqrt{64 + 4} \sqrt{9 + 4}} = \frac{4}{\sqrt{13} \sqrt{68}};$$

$$|NM| = \sqrt{68} \frac{4}{\sqrt{13}\sqrt{68}} = \frac{4}{\sqrt{13}}.$$

23) Найти расстояние между прямыми QP и LN .

Уравнение прямой QP : $\frac{x+3}{6} = \frac{y-1}{1} = \frac{z-4}{-9}$ (см. п. 9);

$\vec{q}_1(6, 1, -9)$ – направляющий вектор прямой QP .

Напишем уравнение прямой LN .

$L(-3, 2, 4), N(-3, 9, 2) \Rightarrow \overline{LN}(0, 7, -2)$

Для любой точки $M(x, y, z)$, лежащей на прямой LM , вектор \overline{LM} коллинеарен вектору \overline{LN} (рис. 2.31) $\Rightarrow \frac{x+3}{0} = \frac{y-2}{7} = \frac{z-4}{-2}$ – каноническое уравнение прямой LN .

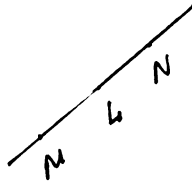


Рис. 2.31

$\vec{q}_2(0, 7, -2)$ – направляющий вектор прямой LN .

Выясним взаимное расположение прямых QP и LN .

Прямые QP и LN лежат в одной плоскости, если векторы $\overline{LN}, \overline{QP}, \overline{QL}$ – компланарны (рис. 2.32), а значит $(\overline{LN}, \overline{QP}, \overline{QL}) = 0$.

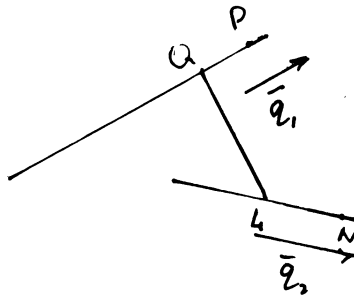


Рис. 2.32

$$\bar{q}_1 = \overline{QP} = (6, 1, -9);$$

$$\bar{q}_2 = \overline{LN} = (0, 7, -2);$$

$$\overline{QL}(0, 1, 0);$$

$$(\bar{q}_1, \bar{q}_2, \overline{QL}) = \begin{vmatrix} 6 & 1 & -9 \\ 0 & 7 & -2 \\ 0 & 1 & 0 \end{vmatrix} =$$

= |разложим по третьей строке| = $-1 \begin{vmatrix} 6 & -9 \\ 0 & -2 \end{vmatrix} = 12 \neq 0 \Rightarrow$ прямые не лежат в одной плоскости \Rightarrow они скрещиваются.

$$\rho(QP, LN) = \frac{|(\bar{q}_1, \bar{q}_2, \overline{QL})|}{|[\bar{q}_1, \bar{q}_2]|};$$

$$|(\bar{q}_1, \bar{q}_2, \overline{QL})| = 12;$$

$$[\bar{q}_1, \bar{q}_2] = \begin{vmatrix} \bar{i} & \bar{j} & \bar{k} \\ 6 & 1 & -9 \\ 0 & 7 & -2 \end{vmatrix} = \bar{i} \begin{vmatrix} 1 & -9 \\ 7 & -2 \end{vmatrix} - \bar{j} \begin{vmatrix} 6 & -9 \\ 0 & -2 \end{vmatrix} + \bar{k} \begin{vmatrix} 6 & 1 \\ 0 & 7 \end{vmatrix} =$$

$$= (-2 + 63)\bar{i} - (-12 - 0)\bar{j} + 42\bar{k} = 61\bar{i} + 12\bar{j} + 42\bar{k};$$

$$|[\bar{q}_1, \bar{q}_2]| = \sqrt{61^2 + 12^2 + 42^2} = \sqrt{3721 + 144 + 1764} = \sqrt{5629};$$

$$\rho(QP, LN) = \frac{12}{\sqrt{5629}}.$$

24) Найти координаты точки N_1 , симметричной точке N относительно прямой QP .

$$\text{Уравнение прямой } QP: \frac{x+3}{6} = \frac{y-1}{1} = \frac{z-4}{-9}.$$

При решении задачи 20 вторым способом мы нашли координаты точки $F\left(-\frac{99}{59}, \frac{72}{59}, \frac{119}{59}\right)$ – основания перпендикуляра, опущенного из точки N на прямую QP (рис. 2.33).

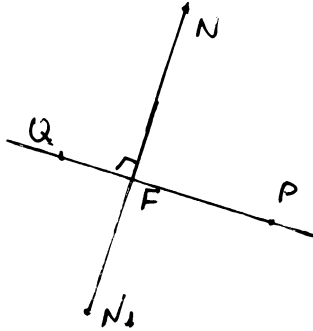


Рис. 2.33

Найдем координаты точки N_1 .

$$\overline{NF} = \frac{1}{2} \overline{NN_1};$$

$$\overline{NF} = \left(-\frac{99}{59} + 3, \frac{72}{59} - 9, \frac{119}{59} - 2 \right) = \left(\frac{78}{59}, -\frac{459}{59}, \frac{1}{59} \right).$$

Пусть $N_1(x_1, y_1, z_1)$.

$$\overline{NN_1}(x_1 + 3, y_1 - 9, z_1 - 2).$$

$$\left(\frac{78}{59}, -\frac{459}{59}, \frac{1}{59} \right) = \frac{1}{2}(x_1 + 3, y_1 - 9, z_1 - 2).$$

Два вектора равны, если равны их соответствующие координаты, составим систему:

$$\begin{cases} \frac{x_1 + 3}{2} = \frac{78}{59} \\ \frac{y_1 - 9}{2} = -\frac{459}{59} \\ \frac{z_1 - 2}{2} = \frac{1}{59} \end{cases} \Rightarrow \begin{cases} x_1 + 3 = \frac{156}{59} \\ y_1 - 9 = -\frac{918}{59} \\ z_1 - 2 = \frac{2}{59} \end{cases} \Rightarrow \begin{cases} x_1 = \frac{156}{59} - 3 = \frac{156 - 177}{59} \\ y_1 = 9 - \frac{918}{59} = \frac{531 - 918}{59} \\ z_1 = 2 + \frac{2}{59} \end{cases} \Rightarrow \begin{cases} x_1 = -\frac{21}{59} \\ y_1 = -\frac{387}{59} \\ z_1 = \frac{120}{59}. \end{cases}$$

$N_1\left(-\frac{21}{59}, -\frac{387}{59}, \frac{120}{59}\right)$ – точка, симметричная точке N относительно прямой QP .

25) Найти координаты точки N_2 , симметричной точке N относительно плоскости (QLP) .

Уравнение плоскости (QLP) : $3x + 2z + 1 = 0$ (см. п. 3).

Через точку N проведем прямую NN_3 перпендикулярно плоскости (QLP) . Вектор $\vec{n}(3, 0, 2)$ перпендикулярен плоскости $(QLP) \Rightarrow$ прямая (NN_3) параллельна вектору $\vec{n} \Rightarrow$ для любой точки $M(x, y, z)$, лежащей на прямой NN_3 , вектор $\overline{NM}(x+3, y-9, z-2)$ коллинеарен вектору \vec{n} , а значит координаты векторов \overline{NM} и \vec{n} должны быть пропорциональны (рис. 2.34).

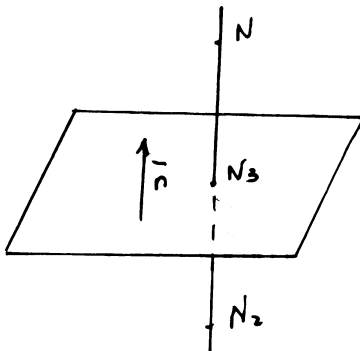


Рис. 2.34

$$\frac{x+3}{3} = \frac{y-9}{0} = \frac{z-2}{2} \text{ – уравнение прямой } NN_3.$$

Напишем параметрическое уравнение этой прямой:

$$\frac{x+3}{3} = \frac{y-9}{0} = \frac{z-2}{2} = t \Rightarrow \begin{cases} x = -3 + 3t, \\ y = 9, \\ z = 2 + 2t; \end{cases}$$

Найдем координаты точки $N_3(x_0, y_0, z_0)$ – точки пересечения прямой и плоскости (QLP) :

$$N_3 \in NN_3 \Rightarrow \begin{cases} x_0 = -3 + 3t_0, \\ y_0 = 9, \\ z_0 = 2 + 2t_0; \end{cases}$$

$$N_3 \in (QLP) \Rightarrow 3x_0 + 2z_0 + 1 = 0;$$

$$3(-3 + 3t_0) + 2(2 + 2t_0) + 1 = 0;$$

$$-9 + 9t_0 + 4 + 4t_0 + 1 = 0;$$

$$13t_0 - 4 = 0 \Rightarrow t_0 = \frac{4}{13};$$

$$\begin{cases} x_0 = -3 + 3\frac{4}{13} = \frac{-39+12}{13} = \frac{-27}{13} \\ y_0 = 9 \\ z_0 = 2 + 2\frac{4}{13} = \frac{26+8}{13} = \frac{34}{13} \end{cases} \Rightarrow N_3\left(-\frac{27}{13}; 9; \frac{34}{13}\right).$$

Найдем координаты точки N_2 , симметричной точке N относительно плоскости (QLP) , $\overline{MN}_3 = \frac{1}{2}\overline{MN}_2$ (см. рис. 2.34).

Пусть $N_2(x_2, y_2, z_2)$.

$$\overline{MN}_3 = \left(-\frac{27}{13} + 3, 9 - 9, \frac{34}{13} - 2\right) = \left(\frac{12}{13}, 0, \frac{8}{13}\right);$$

$$\overline{MN}_2(x_2 + 3, y_2 - 9, z_2 - 2);$$

$$\left(\frac{12}{13}, 0, \frac{8}{13}\right) = \frac{1}{2}(x_2 + 3, y_2 - 9, z_2 - 2).$$

Два вектора равны, если равны их соответствующие координаты.

$$\begin{cases} \frac{x_2 + 3}{2} = \frac{12}{13} \\ \frac{y_2 - 9}{2} = 0 \\ \frac{z_2 - 2}{2} = \frac{8}{13} \end{cases} \Rightarrow \begin{cases} x_2 + 3 = \frac{24}{13} \\ y_2 = 9 \\ z_2 - 2 = \frac{16}{13} \end{cases} \Rightarrow \begin{cases} x_2 = \frac{24}{13} - 3 \\ y_2 = 9 \\ z_2 = \frac{16}{13} + 2 \end{cases} \Rightarrow \begin{cases} x_2 = -\frac{15}{13} \\ y_2 = 9 \\ z_2 = \frac{42}{13} \end{cases} \Rightarrow$$

$\Rightarrow N_2\left(-\frac{15}{13}, 9, \frac{42}{13}\right)$ – координаты точки, симметричной точке N относительно плоскости (QLP) .